

NUME și PRENUME:
CLASA:

Data:
Prof. Dascălu Gabriel

Test de evaluare Geografie

I) Completați spațiile libere din următoarele enunțuri:

- a) Terra este o planetă a Sistemului Solar, care s-a format în urmă cu aproximativ de ani. Aceasta este mai turtită la poli și mai bombată la
- b) Luna este singurul natural al Pământului. Aceasta se învârtă în jurul planetei noastre în zile. Principala influență a Lunii asupra Terrei o prezintă formarea (flux și reflux) prin atracția apelor oceanice de gravitația Lunii. 2,5 p.

II) Precizați cel puțin două argumente/dovezi ale faptului că Pământul este sferic. 2 p.

III) Prezentați în minim 4 rânduri teoria Big Bang și modul în care s-a format Universul și planeta noastră. 1,5 p.

IV) Alegeți răspunsul corect:

- 1) Ordinea corectă a planetelor din Sistemul Solar în funcție de distanța față de Soare este:
- Mercur, Venus, Pământ, Marte, Jupiter, Saturn, Uranus, Neptun;
 - Pământ, Mercur, Venus, Jupiter, Saturn, Marte, Uranus, Neptun;
 - Mercur, Venus, Marte, Pământ, Jupiter, Saturn, Neptun, Uranus.
- 2) În care din următoarele faze ale Lunii, satelitul natural se vede cel mai puțin de pe Terra?
- Lună plină;
 - Primul pătrar;
 - Lună nouă.
- 3) Eclipsa de Soare are loc atunci când:
- Pământul este între Soare și Lună;
 - Soarele este între Pământ și Lună;
 - Luna este între Soare și Pământ.
- 1,5 p.

V) Numiți cele 3 planete din imaginile din dreapta notate cu litere



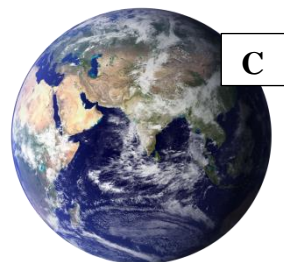
mari de tipar:

A:

B:

C:

1,5 p.



Timp de lucru: 45 minute

Total punctaj: 2,5+2+1,5+1,5+1,5 = 9 p. + 1 p oficiu=10 p