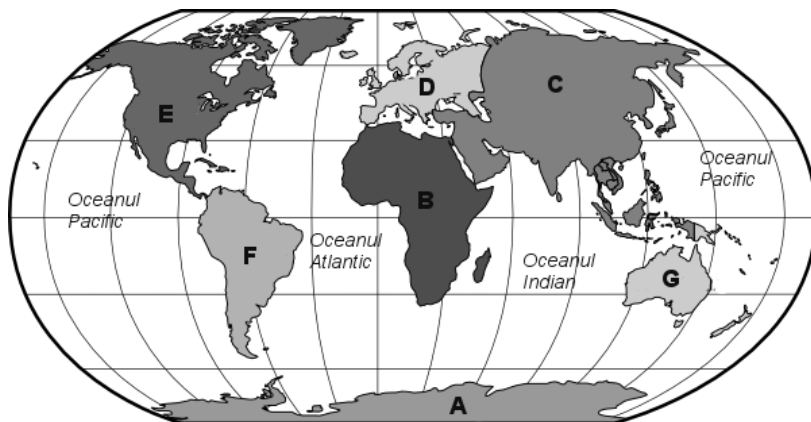


### Test de evaluare – Geografie (Litosfera)

I) Pentru continentele notate cu litere de la A la G precizați denumirile lor. 2,1 p. (7 x 0,3 p.)

- A - \_\_\_\_\_
- B - \_\_\_\_\_
- C - \_\_\_\_\_
- D - \_\_\_\_\_
- E - \_\_\_\_\_
- F - \_\_\_\_\_
- G - \_\_\_\_\_



II) Citiți următoarele enunțuri și încercuiți lita care indică răspunsul corect:

- 1) Zona de convergență (apropiere) a plăcilor tectonice se numește:  
a. rift                      b. Subducție                      c. dorsală
- 2) Zona de divergență (depărtare) dintre două plăci tectonice se numește:  
a. rift                      b. Subducție                      c. dorsală
- 3) Plăcile tectonice majore se mai numesc și:  
a. macroplăci                      b. microplăci                      c. mezoplăci
- 4) Partea de fund a oceanelor se mai numește:  
a. platforma continentală                      b. abrupt continental                      c. câmpie abisală

1,2 p. (4 x 0,3 p.)

III) Completați spațiile libere astfel încât să rezulte enunțuri corecte din punct de vedere științific:

Cel mai înalt punct de pe Terra este vârful ..... din Munții ..... având 8872 m altitudine, iar cel mai adânc punct din oceanele planetei noastre (11034 m) se întâlnește în ..... din Oceanul .....

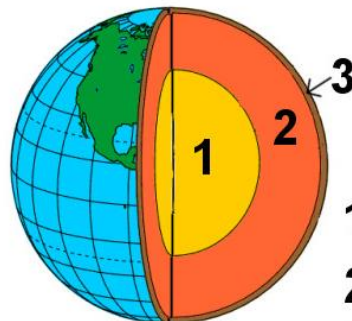
Vulcanii reprezintă forme de relief sub formă conică prin care magma iese din interiorul Terrei la suprafață transformându-se în ..... Aceștia pot fi stinși sau .....

Munții de încrețire se formează prin ..... a două plăci .....

1,6 p. (8 x 0,2 p.)

IV) Analizați figura alăturată și notați în dreptul cifrelor, numele stratului intern al Terrei, corespunzător:

0,9 p. (3 x 0,3 p.)



V) Explicați în 3-5 rânduri ce sunt cutremurele și cum se formează. 0,5 p.

- 1 .....
- 2 .....
- 3 .....

VI) Enumerați cele 3 tipuri de roci existente pe Terra. 0,9 p. (3 x 0,3 p.)

NUME și PRENUME:

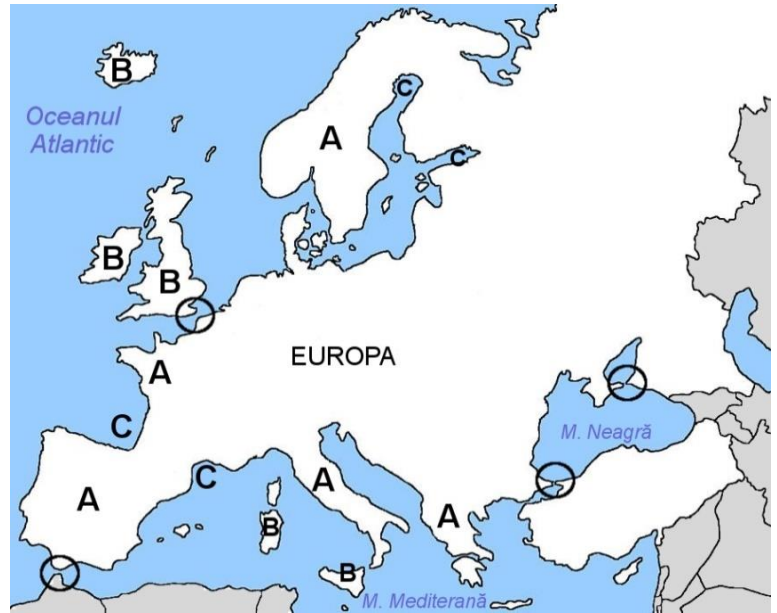
CLASA: a V-a

Prof. Dascălu Gabriel

**VII) Analizați hartă alăturată a Europei și răspundeți la următoarele cerințe:**

- a) Numiți articulațiile țărmurilor notate cu literele A, B și C; *0,6 p.*
- b) Numiți tipul de articulație a țărmului încercuită pe hartă. *0,2 p.*

*0,8 p. (0,6 p. + 0,2 p.)*



Timp de lucru: 45 minute

*TOTAL punctaj: 2,1+1,2+1,6+0,9+0,5+0,9+0,8+ 2 p. Oficiu = 10*