

Test de evaluare – Geografie
-Cunoașterea lumii în care trăim-

Nr. 1

I) Citiți următoarele enunțuri și încercuiți răspunsul corect:

- 1) Primul satelit artificial, trimis în spațiul cosmic în anul 1957, se numea:
 - a. Landsat 1
 - b. Sentinel 1
 - c. Sputnik 1
 - d. Voyager 2
- 2) Ramura geografiei care se ocupă cu studierea, crearea și editarea hărților se numește:
 - a. Cartografie
 - b. Climatologie
 - c. Geologie
 - d. Hidrologie
- 3) Sistemul care permite localizarea precisă pe glob a unui dispozitiv se numește:
 - a. GIS
 - b. GPS
 - c. TIC

1,5 p. (3 x 0,5 p.)

II) Completați spațiile libere din următoarele enunțuri astfel încât să rezulte un adevăr științific:

- a) Cel mai mare continent al Terrei se numește
- b) Cea mai populată țară a lumii este, având aprox. 1,4 miliarde de locuitori, iar pe locul 2 este țara numită
- c) Conform ONU (Organizația Națiunilor Unite), în lume există un număr de țări independente.
- d) Cele două forme principale de guvernământ existente în lume sunt monarhia și

1,5 p. (5 x 0,3 p.)

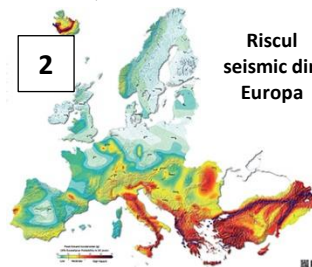
III) Analizați hărțile alăturate notate cu cifrele 1, 2 și 3. Precizați pentru fiecare dintre acestea ce tip de hartă reprezintă (politică, fizică sau tematică):

1 – hartă

2 - hartă

3 – hartă

1,5 (3x0,5) p.



Riscul seismic din Europa



IV) Realizați corelația între elementele coloanei A (nume personalități) și cele ale coloanei B (realizări), astfel încât să existe o legătură între acestea:

Coloana A

1. Cristofor Columb
2. Fernando Magellan
3. Vasco da Gama
4. James Cook
5. Iuri Gagarin
6. Neil Armstrong

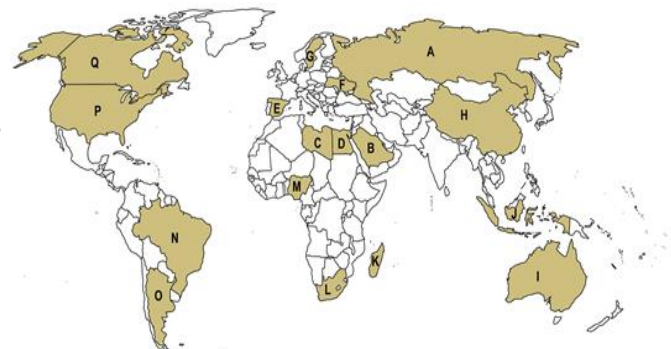
Coloana B

2,4 (6x0,4) p.

- a. a descoperit drumul maritim spre India
- b. primul om ce a pășit pe Lună
- c. primul om ajuns în spațiul cosmic
- d. a cercetat în profunzime Australia
- e. a întreprins prima călătorie în jurul lumii
- f. este considerat descoperitorul Americii

V) Analizați harta politică alăturată și precizați numele statelor marcate cu literele: A, D, H, I, N, P și Q.

2,1 (7x0,3) p.



Test de evaluare – Geografie
-Cunoașterea lumii în care trăim-

Nr. 2

I) Citiți următoarele enunțuri și încercuiți răspunsul corect:

- 1) Ramura geografiei care se ocupă cu studierea, crearea și editarea hărților se numește:
 - a. Hidrologie
 - b. Climatologie
 - c. Geologie
 - d. Cartografie
- 2) Primul satelit artificial, trimis în spațiul cosmic în anul 1957, se numea:
 - a. Sentinel 1
 - b. Sputnik 1
 - c. Landsat 1
 - d. Voyager 2
- 3) Domeniul tehnologic care permite crearea hărților pe computer, se numește:
 - a. GIS
 - b. GPS
 - c. TIC

1,5 p. (3 x 0,5 p.)

II) Completați spațiile libere din următoarele enunțuri astfel încât să rezulte un adevăr științific:

- a) Cel mai mare continent al Terrei se numește
- b) Cea mai extinsă țară a lumii este, având aprox. 17 milioane km², iar pe locul 2 este țara numită din America de Nord;
- c) Conform ONU (Organizația Națiunilor Unite), în lume există un număr de țări independente.
- d) Cele două forme principale de guvernământ existente în lume sunt republica și

1,5 p. (5 x 0,3 p.)

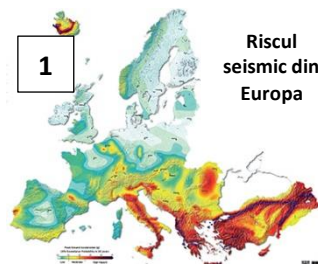
III) Analizați hărțile alăturate notate cu cifrele 1, 2 și 3. Precizați pentru fiecare dintre acestea ce tip de hartă reprezintă (politică, fizică sau tematică):

1 – hartă

2 - hartă

3 – hartă

1,5 (3x0,5) p.



Riscul seismic din Europa



IV) Realizați corelația între elementele coloanei A (nume personalități) și cele ale coloanei B (realizări), astfel încât să existe o legătură între acestea:

Coloana A

1. Iuri Gagarin
2. Fernando Magellan
3. James Cook
4. Vasco da Gama
5. Cristofor Columb
6. Neil Armstrong

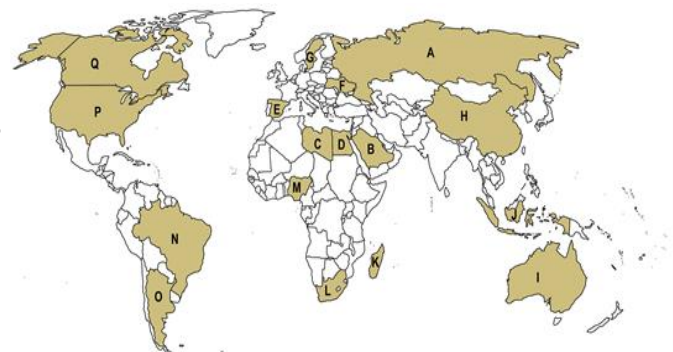
Coloana B

2,4 (6x0,4) p.

- a. a descoperit drumul maritim spre India
- b. primul om ce a pășit pe Lună
- c. primul om ajuns în spațiul cosmic
- d. a cercetat în profunzime Australia
- e. a întreprins prima călătorie în jurul lumii
- f. este considerat descoperitorul Americii

V) Analizați harta politică alăturată și precizați numele statelor marcate cu literele: A, D, H, I, N, P și Q.

2,1 (7x0,3) p.



Timp de lucru: 35 minute

TOTAL punctaj: 1,5+1,5+1,5+2,4+2,1=9+ 1 p. oficiu = 10